

Μάθημα 12

1) Γράψε ποιο αριθμό σου δείχνει κάθε ζάρι, γράψε τον από κάτω και σύγκρινέ τους γράφοντας στα κυκλάκια το σωστό σύμβολο ($<$ ή $>$ ή $=$) όπως εγώ.



..... **2** $>$ **1**



..... ○



..... ○



..... ○



..... ○




..... ○


2) Συμπλήρωσε σε κάθε ζευγάρι ό,τι λείπει και σύγκρινε τους αριθμούς γράφοντας στα κυκλάκια το σωστό σύμβολο ($<$ ή $>$ ή $=$)




..... ○ **2**




..... ○ **4**




5 ○



..... ○ **6**



..... ○ **8**



10 ○

3) Παρατήρησε το σύμβολο στο κουτάκι και συμπλήρωσε όποιον αριθμό ταιριάζει.

..... $>$ **8**

6 $=$

..... $<$ **10**

Όνομα: _____