



Ο Πέτρος έχει  αυτοκινητάκια
και η νονά του του χάρισε άλλα . Πόσα
αυτοκινητάκια έχει τώρα;



Λύση: $\underline{\quad} + \underline{\quad} = \underline{\quad}$

Απάντηση: Ο Πέτρος έχει τώρα $\underline{\quad}$ αυτοκινητάκια.

Η Μελίνα έχει  μολύβια. Αγόρασε ακόμα 
Πόσα μολύβια έχει τώρα;



Λύση: $\underline{\quad} + \underline{\quad} = \underline{\quad}$

Απάντηση: Η Μελίνα έχει τώρα $\underline{\quad}$ μολύβια.

Σε ένα ανθοδοχείο υπάρχουν  μαργαρίτες
και  τριαντάφυλλα. Πόσα είναι όλα τα
λουλούδια μαζί;

Λύση: $\underline{\quad} + \underline{\quad} = \underline{\quad}$

Απάντηση: Όλα τα λουλούδια μαζί είναι $\underline{\quad}$.

Η Μαρία είχε  μπαλόνια. Της έδωσε
η Δανάη άλλα . Πόσα μπαλόνια έχει τώρα;

Λύση: $\underline{\quad} + \underline{\quad} = \underline{\quad}$


Απάντηση: Η Μαρία έχει τώρα $\underline{\quad}$ μπαλόνια.

Όνομα: _____

Λύνω τα προβλήματα:


Η Δήμητρα

είχε



κοτοπουλάκια. Της έφερε

και ο παππούς της άλλα



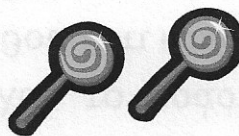
. Πόσα κοτοπουλάκια έχει

τώρα:

Γράφω με αριθμούς και λύνω:

$$\square + \square = \square$$

Ο Ραφαήλ έδωσε στη Δήμητρα



γλειφιτζούρια. Της έδωσε

κι ο Σταύρος άλλα



. Πόσα έχει τώρα;

$$\square + \square = \square$$


Στα γενέθλια της Δήμητρας, ο Ηλίας της έφερε



μπαλόνια. Η Φανή



μπαλόνι ακόμη και η Σταματία άλλα



. Πόσα μπαλόνια

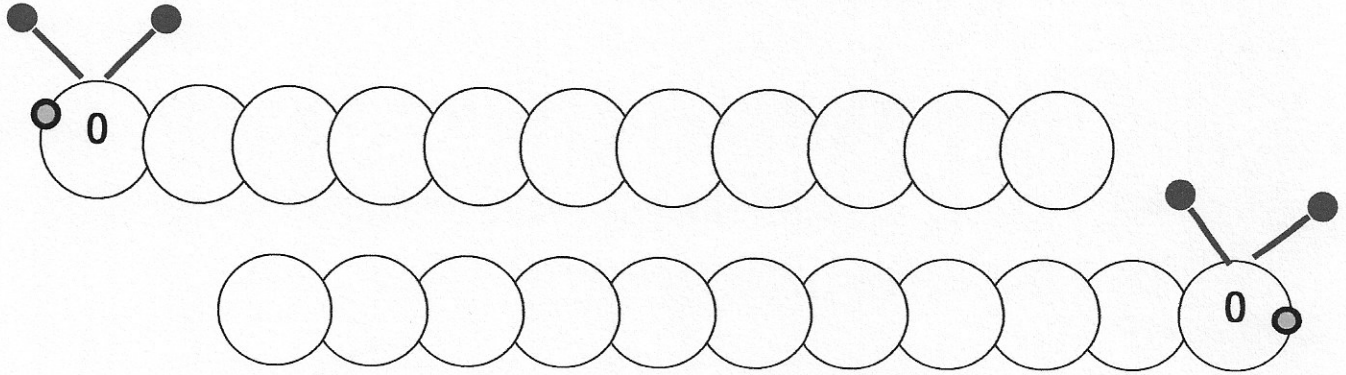
μάζεψε;

$$\square + \square + \square = \square$$

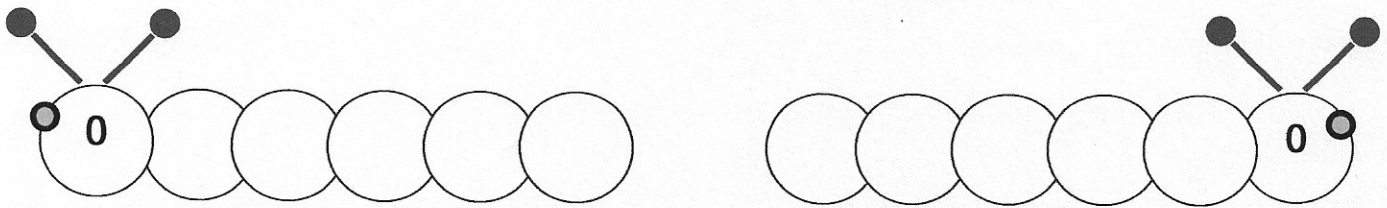
Όνομα: _____

12/11/2021

1. Μετρώ ένα – ένα από το 0 ως το 10 και αντίστροφα :



2. Μετρώ δύο – δύο από το 0 ως το 10 και αντίστροφα :



3. Γράφω τον αριθμό που είναι πριν, μετά και ανάμεσα στους παρακάτω αριθμούς :

_____	2	_____	_____	1	_____	3	_____	5
_____	4	_____	_____	3	_____	4	_____	6
_____	6	_____	_____	5	_____	5	_____	7
_____	8	_____	_____	7	_____	8	_____	10

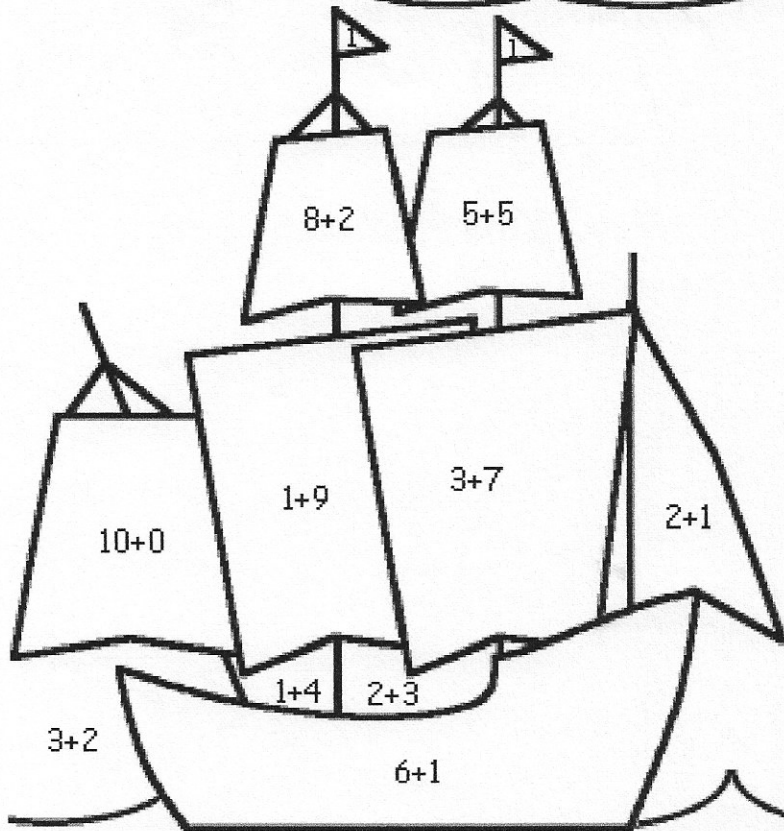
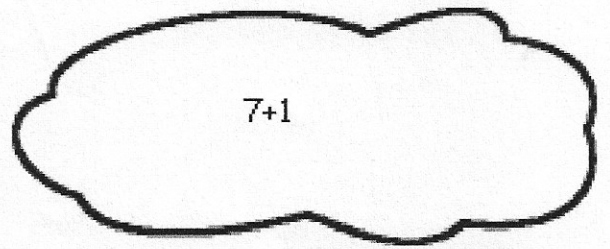

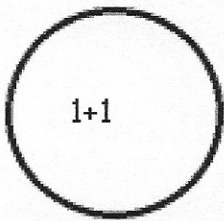
4. Λύνω τις παρακάτω προσθέσεις κάθετα :

2	5	6	7	8	9	4	3
+ 3	+ 2	+ 3	+ 1	+ 2	+ 0	+ 4	+ 3
_____	_____	_____	_____	_____	_____	_____	_____

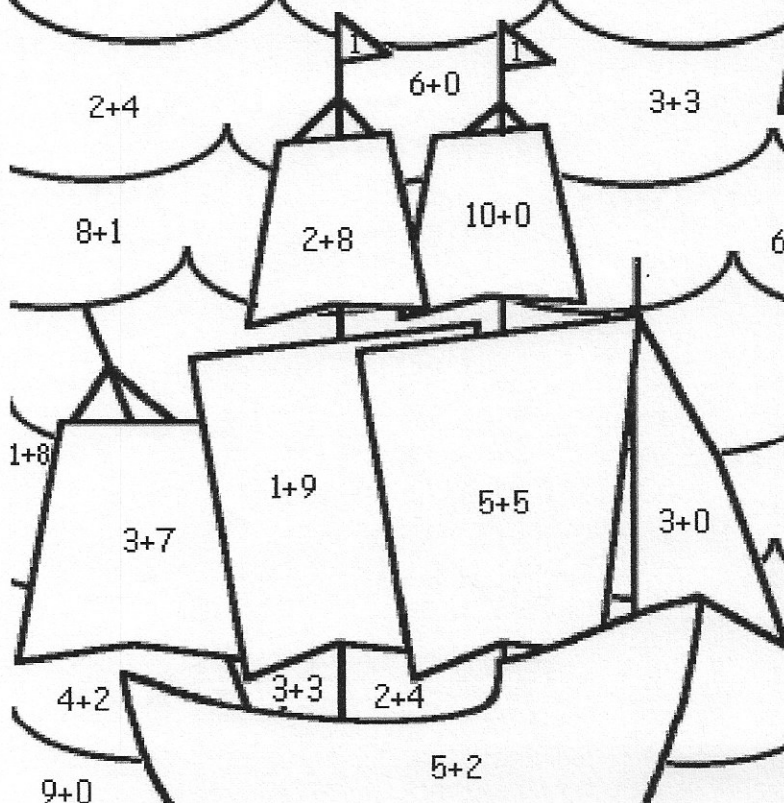
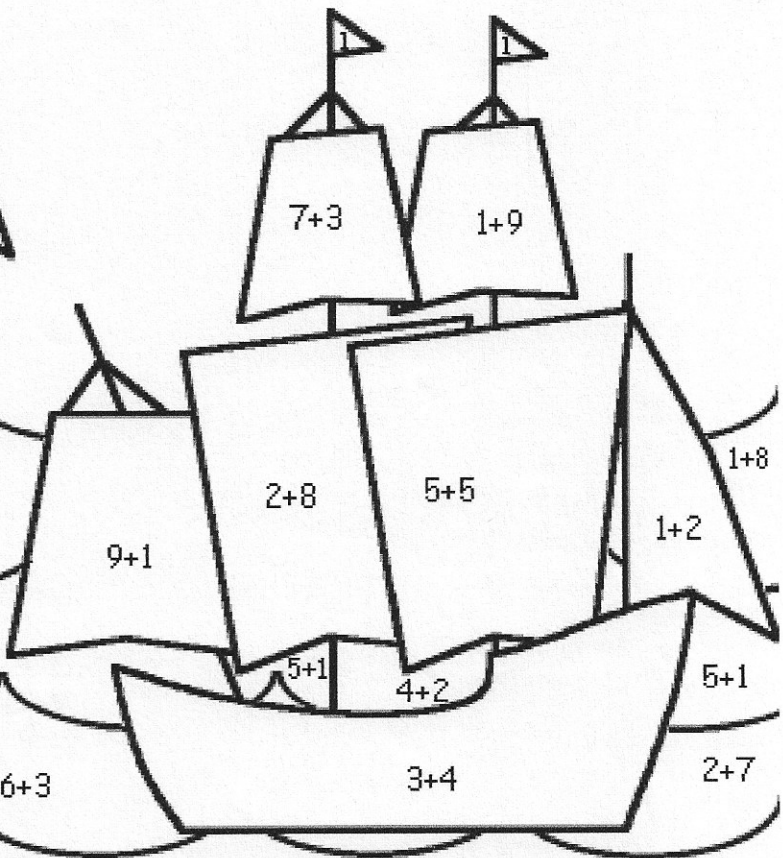
5. Συμπληρώνω το σύμβολο ($>$, $=$, $<$) που ταιριάζει :

10 _____ 8	5 _____ 4 + 1	1 _____ 0	3 _____ 7	3 _____ 1 + 1
3 _____ 4 + 3	9 _____ 5	9 _____ 3 + 2	3 _____ 2 + 2	9 _____ 9

Όνομα: _____




4+1



- | | |
|---------------|--------------|
| 1 - κόκκινο | 6 - μωβ |
| 2 - πορτοκαλί | 7 - καφέ |
| 3 - ροζ | 8 - γκρι |
| 4 - πράσινο | 9 - μπλε |
| 5 - γαλάζιο | 10 - κίτρινο |

Λύνω τις προσθέσεις και χρωματίζω ανάλογα με το αποτέλεσμα :



6 = κόκκινο

8 = κίτρινο

7 = μαύρο

9 = γαλάζιο

Χρόνια πολλά

