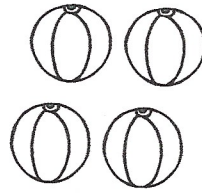


Μάθημα 16

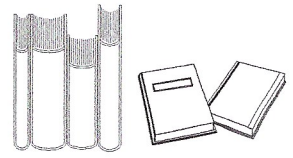
1) Παρατήρησε τις εικόνες και λογάριασε όπως το παράδειγμα:



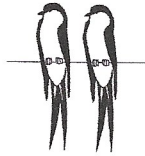
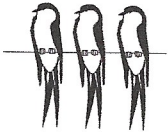
$$3 + 3 = 6$$



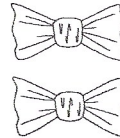

.....



.....



.....



.....



.....

2) Προσπάθησε να βρεις τον αριθμό που λείπει από κάθε ζευγαράκι:

$$3 + \dots = 5$$

$$1 + \dots = 3$$

$$\dots + \dots = 4$$

$$4 + \dots = 5$$

3) Λογάριασε με πολλούς αριθμούς:

$$3 + 3 + 2 =$$

$$5 + 2 + 3 =$$

$$4 + 3 + 2 =$$

$$6 + 2 + 1 =$$

$$5 + 4 + 0 =$$

$$4 + 2 + 3 =$$

$$\begin{array}{r} 3 \\ 1 \\ + 2 \\ \hline \end{array}$$

$$\begin{array}{r} 5 \\ 1 \\ + 2 \\ \hline \end{array}$$

$$\begin{array}{r} 3 \\ 2 \\ + 4 \\ \hline 6 \\ 1 \\ + 2 \\ \hline \end{array}$$

4) Βάλε στους κύκλους το σωστό σημάδι (> = <)

$$3 \bigcirc 1$$

$$7 \bigcirc 7$$

$$2 \bigcirc 10$$

$$9 \bigcirc 6$$

5) Ανέβα 2-2 ως το 10:

0	2				
---	---	--	--	--	--

Όνομα: _____

4 Στόλισε το έλατο βάφοντας τις μπάλες του όπως σου αρέσει, αφού πρώτα βρεις τον αριθμό που λείπει από καθεμιά.

