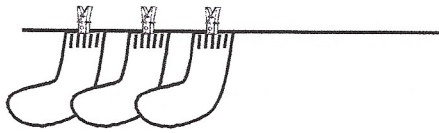


Μάθημα 15

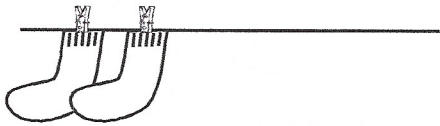
1) Συμπλήρωσε την απλώστρα της μαμάς για να έχει κάθε σκοινί 5 κάλτσες και γράψε το ανάλογο ζευγαράκι.



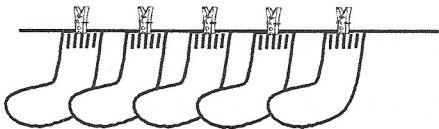
$$\dots + \dots = \dots$$



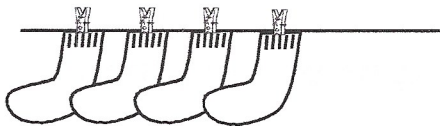
$$\dots + \dots = \dots$$



$$\dots + \dots = \dots$$



$$\dots + \dots = \dots$$



$$\dots + \dots = \dots$$

2) Μάντεψε και γράψε πάνω σε κάθε χεράκι τον αριθμό που κρύβει.

$$3 + \text{hand} = 4$$

$$3 + \text{hand} = 3$$

$$1 + \text{hand} = 4$$

$$2 + \text{hand} = 5$$

$$2 + \text{hand} = 3$$

$$3 + \text{hand} = 5$$

$$1 + \text{hand} = 3$$

$$2 + \text{hand} = 4$$

$$2 + \text{hand} = 2$$

3) Βάλε τους αριθμούς στη σειρά ξεκινώντας από τον μεγαλύτερο.

3
1
5
4
2

Όνομα: _____

Όνομα: _____

Συμπληρώνω το σωστό αριθμό.

$3 + \dots = 5$

$4 + \dots = 5$

$\dots + 1 = 4$

$\dots + 3 = 4$

$\dots + 2 = 4$

$5 + \dots = 5$

$2 + \dots = 5$

$1 + \dots = 3$

$\dots + 4 = 4$

$0 + \dots = 3$

$\dots + 1 = 4$

$3 + \dots = 3$

Κυκλώνω τη σωστή απάντηση.

$2 + 1$

2 3 4

$2 + 3$

3 4 6

$3 + 1$

3 4 5

$4 + 1$

3 5 2

$5 + 0$

4 5 2

$2 + 2$

5 3 4

5. Χρησιμοποιώ τα σημαδάκια $<$ $=$ $>$ και συμπληρώνω.

$2 + 1 \dots\dots 2 + 2$

$2 + 1 \dots\dots 3 + 0$

$3 + 1 \dots\dots 3 + 3$

$4 + 1 \dots\dots 3 + 2$

$6 \dots\dots 4 + 1$

$1 + 3 \dots\dots 5$

$4 \dots\dots 5$

$4 \dots\dots 3$

$2 \dots\dots 0 + 2$