

**Φύλλο εργασίας Μαθηματικών**

1. Λύνω τις προσθέσεις, προσθέτοντας κάθε φορά τον επόμενο αριθμό:

$20 + 10 + 10 + 10 =$

$20 + 20 + 5 + 5 =$

$20 + 10 + 10 + 5 + 5 + 5 =$

$30 + 10 + 10 =$

$5 + 5 + 2 + 2 + 2 + 1 + 1 =$

$10 + 10 + 10 + 10 + 2 + 2 + 2 + 2 =$





$10 + 10 + 4 + 4 + 1 =$

$10 + 10 + 5 + 5 + 5 + 2 =$

$5 + 5 + 5 + 5 + 10 + 20 =$

2. Υπολογίζω πόσα χρήματα έχω, ξεκινώντας από το μεγαλύτερο προς το μικρότερο:

Το δείχνω με πράξη!!!!

	$20 + 10 + 5 + 5 + 2 + 1 = \square$
	<hr/>
	<hr/>
	<hr/>
	<hr/>