












Φύλλο εργασίας Μαθηματικών

Ποια χρήματα πρέπει να δώσω, για να αγοράσω τα αντικείμενα;

Κυκλώνω τα χρήματα και υπολογίζω με **ΠΡΑΞΗ** το σύνολο.

ΔΕΝ ξεχνώ να ξεκινήσω από το μεγαλύτερο προς το μικρότερο:

 <div style="border: 1px solid black; border-radius: 10px; padding: 5px; display: inline-block;">46 €</div>	 $20 + 10 + 10 + 5 + 1 = \text{€}$
 <div style="border: 1px solid black; border-radius: 10px; padding: 5px; display: inline-block;">18 €</div>	
 <div style="border: 1px solid black; border-radius: 10px; padding: 5px; display: inline-block;">17 €</div>	
 <div style="border: 1px solid black; border-radius: 10px; padding: 5px; display: inline-block;">26 €</div>	
 <div style="border: 1px solid black; border-radius: 10px; padding: 5px; display: inline-block;">32 €</div>	
 <div style="border: 1px solid black; border-radius: 10px; padding: 5px; display: inline-block;">48 €</div>	