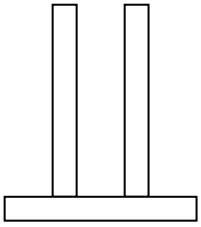


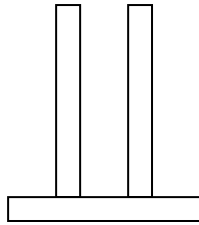
Όνομα.....

Επαναληπτικό τεστ στην 6η ενότητα

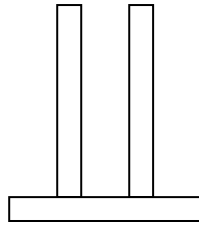
1. Σχηματίζω τους αριθμούς στους άβακες.



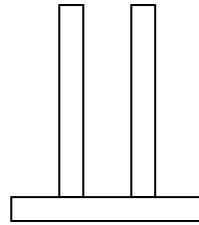
25



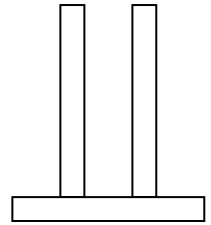
50



44





8





17

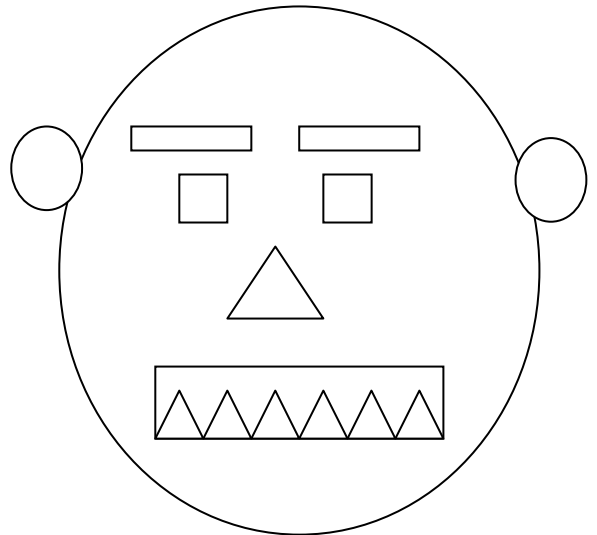
2. Μετρώ τα σχήματα που μοιάζουν μεταξύ τους και γράφω τους αντίστοιχους αριθμούς.

Υπάρχουν _____ 




Υπάρχουν _____ 

Υπάρχουν _____ 

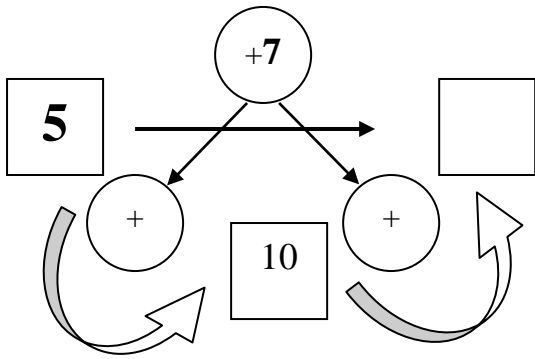
Υπάρχουν _____ 



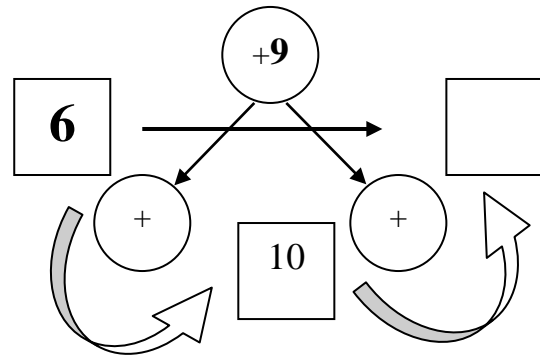
3. Συμπληρώνω τα ημερολόγια.



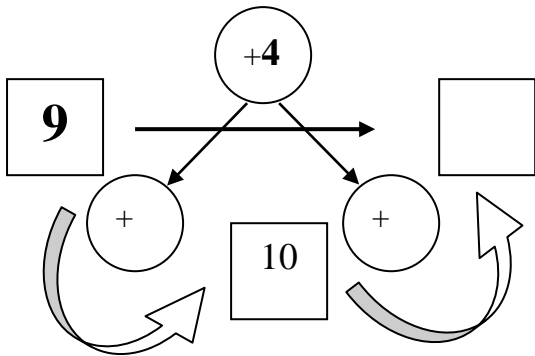
4. Υπολογίζω και συμπληρώνω τους αριθμούς που λείπουν.



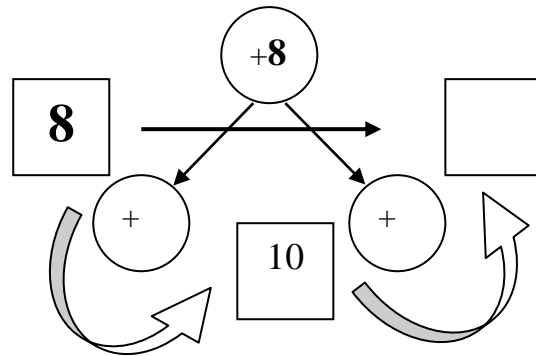
Έχουμε + =



Έχουμε + =



Έχουμε + =



Έχουμε + =

5. Κάνω τις παρακάτω πράξεις.

$4 + 8 =$

$7 + 6 =$

$6 + 6 =$

$9 + 6 =$

$7 + 8 =$

$3 + 9 =$

$5 + 8 =$

$7 + 4 =$

$9 + 4 =$

