

Αξία θέσης και ανάλυση αριθμών

1. Παρατήρησε τους αριθμούς και απάντησε παρακάτω

 19.532	 7.580	 254.798
 88.254	 316.952	 486

Ποιοι αριθμοί έχουν το ψηφίο 5 στη θέση των ΔΕΚΑΔΩΝ;

.....

Ποιος αριθμός έχει το ψηφίο 5 στη θέση με τη μεγαλύτερη αξία;

.....

Ποιος αριθμός από τους δύο έχει το ψηφίο 7 στη μεγαλύτερη θέση; 254.798 και 7.580

.....

Βάλε τους αριθμούς από τον μικρότερο στον μεγαλύτερο

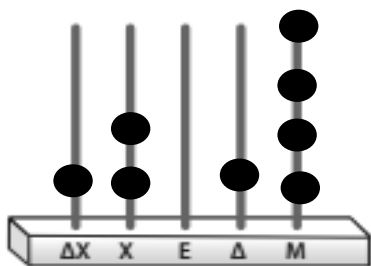
.....

Ποιοι αριθμοί είναι μικρότεροι από τον αριθμό 88.254;

.....



2. Χρησιμοποίησε τους άβακες, όπως στο παράδειγμα και γράψε τα αποτελέσματα με ψηφία και γράμματα. Εσύ θα αποφασίσεις τους αριθμούς, που θα προκύψουν.

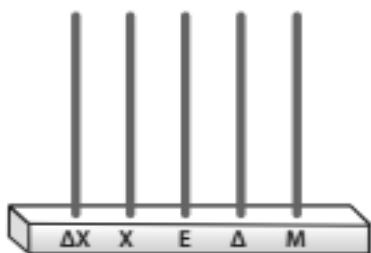


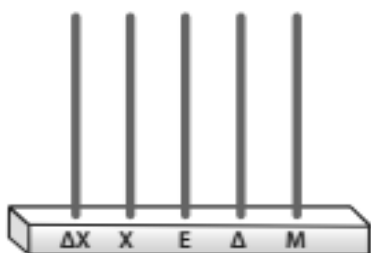
Με ψηφία

12.014

Με γράμματα

Δώδεκα χιλιάδες
δεκατέσσερα





3. Ανάλυσε τους παρακάτω αριθμούς

$$18.571 = 18.000 + 500 + 70 + 1$$

$$16.900 = \dots\dots\dots$$

$$19.640 = \dots\dots\dots$$

$$15.021 = \dots\dots\dots$$

$$18.702 = \dots\dots\dots$$



Έφτασες στο τέλος!
Συγχαρητήρια!