

ΜΑΘΗΜΑΤΙΚΑ




1. Συμπλήρωσε τα κουτάκια για να φτάσεις στον αριθμό που βλέπεις στο μπλε και κίτρινο κουτάκι.

6	9	7	8
2			6
	3		1
5		2	5

2. Να ενώσεις με μια γραμμή αυτά που είναι ίσα .

$7 + 2$	$3 + 1$	$8 - 3$	$7 - 1$
$5 + 3$	$10 - 1$	$10 - 3$	$4 + 3$
$6 - 2$	$4 + 4$	$2 + 4$	$3 + 2$

3. Αν αγοράσω το καπέλο , τη σβούρα και το ημερολόγιο , πόσα χρήματα θα δώσω ;

4 €		1 €			3 €
-----	---	-----	---	--	-----

.....
 Αν δώσω 10 € , θα πάρω ρέστα ; Πόσα ;

.....



4 Βάζω σε κύκλο τα χρήματα που χρειάζομαι κάθε φορά για να αγοράσω το αντικείμενο.



4 €



40 λ.



12 €



6 €



35 λ.



ΑΡΙΘΜΟΑΙΝΙΓΜΑ

Στο μυαλό μου κρύβω έναν αριθμό που αν του προσθέσω το 6 , γίνεται 10 . Ποιον αριθμό κρύβω;

