

ΕΠΑΝΑΛΗΠΤΙΚΟ

1) Ανεβαίνω 2 - 2 μέχρι το 20.

0, 2, _____, _____, _____, _____, _____, _____, _____, _____, 20

Κατεβαίνω 1 - 1 από το 20.

20, 19, _____, _____, _____, _____, _____, _____, _____,
_____, _____, _____, _____, _____, _____, _____, _____,
0

2) Ενώνω τα ζευγαράκια με το αποτέλεσμα τους.

$$4 + 2$$

$$5 + 3$$


$$6 + 4$$

$$5 + 2$$

$$6 + 3$$

6
7
8
9
10

Λογάριασε
προσεκτικά!



$$5 - 2$$

$$10 - 8$$

$$7 - 3$$

$$10 - 4$$

$$9 - 4$$

2
3
4
5
6

3) Τι λείπει;

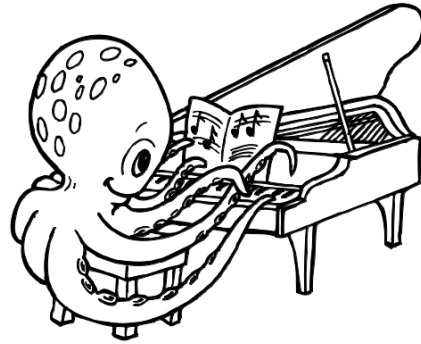
$$3 + \square = 7$$

$$5 + \square = 8$$

$$7 + \square = 10$$

$$6 + \square = 9$$

$$4 + \square = 9$$



$$10 - \square = 6$$

$$8 - \square = 4$$

$$9 - \square = 5$$

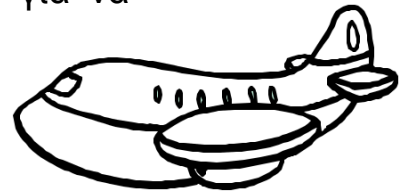
$$7 - \square = 5$$

$$10 - \square = 5$$

4) Λύσε τα προβλήματα και απάντησε με μια ολόκληρη κουβεντούλα.

Είχα στο πορτοφόλι μου 10 ευρώ αλλά έδωσα τα 4 για να αγοράσω ένα αεροπλανάκι.
Πόσα ευρώ μου έμειναν;


Λογαριάζω:



Απάντηση: _____

Η γιαγιά έχει στο χωριό ένα προβατάκι, ένα γαϊδουράκι και μια κότα.
Πόσα πόδια έχουν τα ζώα όλα μαζί;


Λογαριάζω:



Απάντηση: _____

Ήμουν μόνος στο σπίτι γι' αυτό φώναξα 2 φίλες και 2 φίλους μου να παίξουμε. Πόσα παιδιά είμαστε τώρα όλα μαζί;

Λογαριάζω:



Απάντηση: _____