

ΑΘΡΟΙΣΜΑΤΑ ΜΕ ΠΟΛΛΟΥΣ ΑΡΙΘΜΟΥΣ

1. Βρίσκω τον αριθμό που λείπει:

$2 + 3 + \dots = 10$

$4 + 4 + \dots = 9$


$1 + 4 + \dots = 8$

$3 + 2 + \dots = 10$


$6 + 1 + \dots = 9$

$5 + 3 + \dots = 8$


2. Παρατηρώ και συμπληρώνω όπως το παράδειγμα:




$3 + 2 + 4 = 9$




$4 + 1 + 2 = \dots$




$3 + 2 + 5 = \dots$



$\dots + \dots + \dots = \dots$



$\dots + \dots + \dots = \dots$



$\dots + \dots + \dots = \dots$

3. Κάνω κάθετα τις προσθέσεις:

7	4	6	5
1	2	2	1
+1	+ 1	+ 2	+ 3
_____	_____	_____	_____

4. Λύνω τα προβλήματα:

- Χθες αγόρασα από το μανάβη 4 κιλά πορτοκάλια 5 κιλά μήλα και 1 κιλό μπανάνες. Πόσα κιλά φρούτα αγόρασα;

$$\underline{\quad} + \underline{\quad} + \underline{\quad} = \underline{\quad}$$

- Στο δωμάτιό μου έχω 2 επιτραπέζια, 3 μπάλες και 4 αυτοκινητάκια. Πόσα παιχνίδια έχω;

$$\underline{\quad} + \underline{\quad} + \underline{\quad} = \underline{\quad}$$

- Οι φίλοι μου, μου έδωσαν 10 αυτοκόλλητα. Ο Γιώργος μου έδωσε 5 και η Μαρία 3. Πόσα μου έδωσε ο Μιχάλης;

$$5 + 3 + \underline{\quad} = 10$$