

Αθροίσματα με πολλούς όρους

Όνομα: _____

1. Συμπλήρωσε τις κάρτες που λείπουν έτσι ώστε το κάθε παιδί να έχει το σύνολο που γράφει.




7

4	2	
---	---	--

3	1	
---	---	--

5	1	
---	---	--




9

2	3	
---	---	--

4	3	
---	---	--

5	1	
---	---	--



10

3	3	
---	---	--

5	2	
---	---	--

2	1	
---	---	--

2. Κάνε τις παρακάτω πράξεις οριζόντια και κάθετα.



$3+2+5=.....$

$6+2+1=.....$

$2+2+2=.....$

$5+2+1=.....$

$2+4+1=.....$

$4+2+2=.....$

$3+3+3=.....$

$1+2+3=.....$

	3		4		5
	2		3		2
+	3	+	1	+	2
	<hr/>		<hr/>		<hr/>

3. Λύσε το πρόβλημα.

Ο Γιάννης αγόρασε δύο μπάλες και ένα βιβλίο.

Πόσα χρήματα πλήρωσε;

ΛΥΣΗ

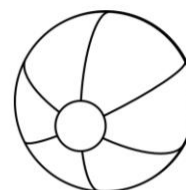
<input type="text"/>	<input type="text"/>	<input type="text"/>	<input type="text"/>
----------------------	----------------------	----------------------	----------------------

ΑΠΑΝΤΗΣΗ

Ο Γιάννης πλήρωσε _____ ευρώ



5 ευρώ



2 ευρώ