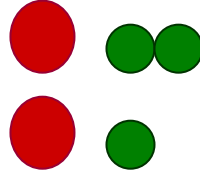
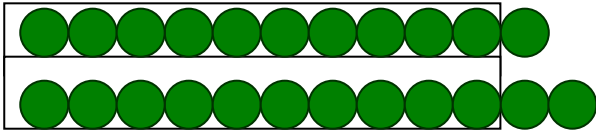


Όνοματεπώνυμο _____

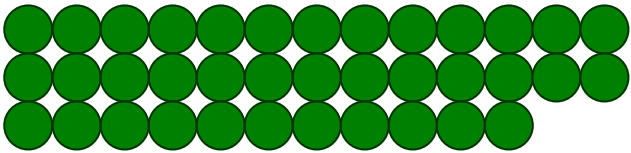
Έχουμε συμφωνήσει να ανταλλάξουμε 10 πράσινες κουκίδες με μία κόκκινη δηλαδή μία δεκάδα.


1. Δουλεύω όπως το παράδειγμα.


ΠΑΡΑΔΕΙΓΜΑ

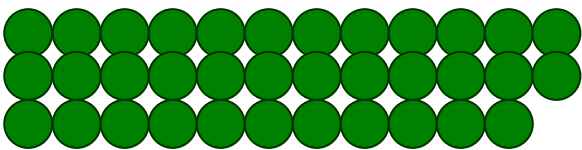


2	3









2. Υπολογίζω πόσα είναι όπως στο παράδειγμα.

$$10 + 10 + 10 + 4 = 34$$

τριάντα τέσσερα

$$10 + 10 + 10 + 10 + 5 = \underline{\hspace{2cm}}$$

$$10 + 10 + 10 + 10 + 7 = \underline{\hspace{2cm}}$$

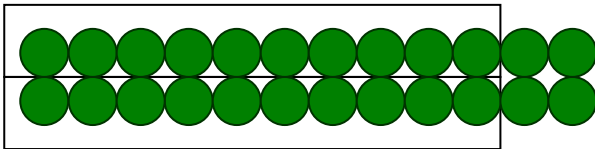
$$10 + 10 + 9 = \underline{\hspace{2cm}}$$

$$10 + 10 + 10 + 7 = \underline{\hspace{2cm}}$$


$$10 + 10 + 10 + 10 + 10 = \underline{\hspace{2cm}}$$

3. Δουλεύω όπως στο παράδειγμα. Με **πράσινο χρώμα** οι μονάδες και **κόκκινο χρώμα** οι δεκάδες.


ΠΑΡΑΔΕΙΓΜΑ




Δ	Μ
●	●
2	4



Δ	Μ
●	●



Δ	Μ
●	●



Δ	Μ
●	●