

ΟΝΟΜΑ: _____

ΜΑΘΗΜΑΤΙΚΑ 6^η ΕΝΟΤΗΤΑ

1. Βάζω σε κύκλο τα χρήματα που χρειάζεται για να αγοράσω τα αντικείμενα.

 5 ευρώ







 7 ευρώ



2. Βάζω σε κύκλο τα χρήματα που έχουν ίδια αξία με αυτά της πρώτης στήλης.

3. Σχηματίζω στους άβακες τους αριθμούς που είναι στα κουτάκια.

			
36	12	28	44

4. Βρίσκω τις Δεκάδες και τις Μονάδες και συμπληρώνω τις ισότητες.

Το 23 έχει	2	και	3Μ	$23 = 20 + 3$
Το 45 έχει	_____	και	_____	_____ = _____
Το 62 έχει	_____	και	_____	_____ = _____
Το 76 έχει	_____	και	_____	_____ = _____
Το 19 έχει	_____	και	_____	_____ = _____