






Προβλημάκια

1. Ο Χρήστος θέλει να αγοράσει μια  που κοστίζει 4 €. Έχει 10 €. Πόσα ρέστα θα πάρει;

Λύση :

Απάντηση:

2. Ο  έκρυψε χθες 5  και σήμερα άλλα 4  .
Πόσα  έχει κρύψει;

Ζωγραφίζω:



Λύση :

Απάντηση:

3. Ο Γιάννης είναι 9 χρονών και ο Γεράσιμος 7. Πόσο μεγαλύτερος είναι ο Γιάννης;

Λύση :

Απάντηση:

4. Η γιαγιά Μαρία χρειάζεται για μια πίτα 8  αλλά έχει μόνο 4. Πόσα ακόμη  θα χρειαστεί;

Λύση :

Απάντηση:

5. Έχω 3  , ο φίλος μου ο Λάμπρος έχει 4 
και ο Σταύρος έχει 3  . Πόσα είναι όλα τα αυτοκινητάκια;

Λύση :

Απάντηση:

6. Η Μαρίνα έχει 3  και η Αναστασία 9 . Πόσα λιγότερα έχει η Μαρίνα;

Λύση :

Απάντηση:




7. Η Ηρώ έχει 4 αυτοκόλλητα Γουίνι και 3 αυτοκόλλητα Σίντυ .

Η Γωγώ έχει 5 αυτοκόλλητα Γουίνι και 2 αυτοκόλλητα Σίντυ.

Ποια έχει περισσότερα;

Λύση :

Απάντηση:

8. Σε ένα ζωολογικό κήπο υπάρχουν 5 , 5  και 6 . Πόσα είναι όλα τα ζώα; _____

Λύση :

Απάντηση:

9. Θέλεις να αγοράσεις ένα παιχνίδι που κάνει 9 € όμως έχεις μόνο 2 €. Πόσα ακόμη χρήματα χρειάζεσαι;

Λύση :

Απάντηση: